

# Estimulación cognitiva

2




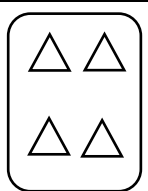

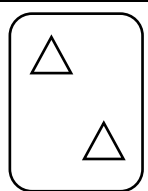
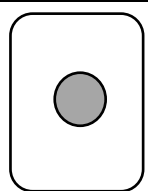
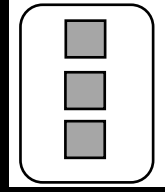
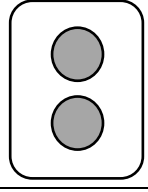
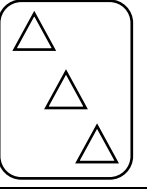

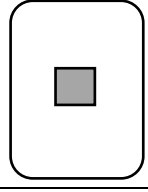




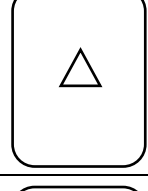
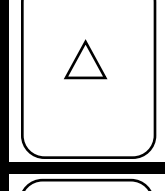
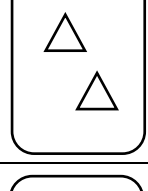
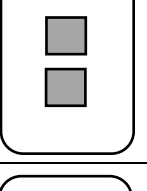

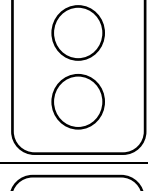
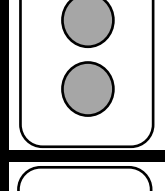
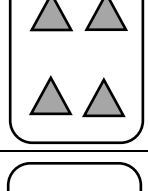







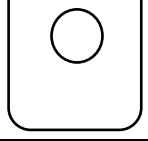
Nivel Alto  
Deterioro cognitivo leve

## FEXIBILIDAD

Tendrás que emparejar la carta de la izquierda con una de las cartas de la derecha, con la 1, la 2, la 3 o la 4, teniendo en cuenta que:

Si hay una carta idéntica (que coincide en color, forma y número):  
se emparejará con ella





Si no hay una carta idéntica se clasifica con la que no coincida ni en forma, ni en color, ni en número

	1	2	3	4	Respuesta
					
					
					
					
					
					

Fecha: \_\_\_\_\_ Hora: \_\_\_\_\_

## ABSTRACCIÓN

Rodea el elemento de cada fila que no pertenece a la misma categoría:



Fecha: \_\_\_\_\_ Hora: \_\_\_\_\_  
[www.neuropsicologiagdb.com](http://www.neuropsicologiagdb.com)

## ATENCIÓN ALTERNANTE

Lee una letra sí y una no para formar dos frases completas, intenta no señalar sobre el papel ni marcar con el lápiz las letras, léelo mentalmente:

M	A	I	Y	P	E	R	R
I	S	M	E	O	M	S	E
E	R	C	O	A	M	S	P
A	I	R	O	A	L	E	A
N	C	A	A	G	F	O	E
S	T	T	E	O	R	.	A

**FRASE 1:**

---

**FRASE 2:**

---

Fecha: \_\_\_\_\_ Hora: \_\_\_\_\_

## MEMORIA DE TRABAJO

Ordena las siguientes palabras de las frases del libro *Platero y yo* de Juan Ramón Jiménez:

*fuera, es Platero algodón, por que todo pequeño blando no de diría que se lleva huesos. suave; peludo, tan*

---

---

---

*azabache los duros de sus ojos son cristal de escarabajos de Sólo espejos negro. Dos cual*

---

---

---

*va deajo hocico, y al celestes prado, rozándolas y tibiamente con Lo rosas, su apenas, las florecillas y gualdas... suelto acaricia se*

---

---

---

*se ideal... Lo y un viene qué a mí trotecillo alegre que parece con "¿Platero?", que dulcemente: ríe, en no sé llamo cascabeleo*

---

---

---

Fecha: \_\_\_\_\_ Hora: \_\_\_\_\_

## FLUENCIA VERBAL FONOLÓGICA

Escribe 25 palabras que empiecen por las siguientes sílabas, intenta que no sean nombres propios:

	CO	ME	RA	TO
1				
2				
3				
4				
5				
6				
7				
8				
9				
10				
11				
12				
13				
14				
15				
16				
17				
18				
19				
20				
21				
22				
23				
24				
25				

Fecha: \_\_\_\_\_ Hora: \_\_\_\_\_

## PLANIFICACIÓN

Imagina que tienes que planificar unas vacaciones a la India, escribe 20 pasos ordenados sobre acciones o decisiones que tienes que tomar para planificar tu viaje, no pueden ser más o menos pasos, deben ser exactamente 20



1

2

3

4

5

6

7

8

9

10

11

12

13

14

15

16

17

18

19

20

Fecha: \_\_\_\_\_ Hora: \_\_\_\_\_

## ABSTRACCIÓN

Señala la variable o categoría a la que pertenecen los siguientes grupos de palabras

Frío
Helado
Templado
Caliente
Ardiendo
<input type="text"/>

Mal
Bien
Regular
Excelente
Muy mal
<input type="text"/>

Ayer
Mañana
Ahora
Pasado mañana
La próxima semana
<input type="text"/>

Feo
Bonito
Precioso
Horrible
Hermoso
<input type="text"/>

Inteligente
Atractivo
Generoso
Valiente
Elegante
<input type="text"/>

Memoria
Atención
Lenguaje
Percepción
Razonamiento
<input type="text"/>

Fecha: \_\_\_\_\_ Hora: \_\_\_\_\_

















































































## FLEXIBILIDAD

Pon al lado de las flechas blancas la inicial de la dirección a la que apunta:

**A**= Arriba, **Ab**= Abajo, **D**= Derecha, **I**=Izquierda

Y al lado de las flechas negras la inicial de la dirección opuesta:

**A**= Abajo, **Ab**= Arriba, **D**= Izquierda, **I**=Derecha

Fecha: \_\_\_\_\_ Hora: \_\_\_\_\_

## ATENCIÓN ALTERNANTE

A continuación, encontrarás números y letras de color blanco o negro.

Al lado de los **números negros** deberás escribir el **nombre del número**

Al lado de las **letras negras** escribirás una **palabra** que empiece por esa letra

Al lado de los **números blancos** escribirás si es **par o impar**


Al lado de las **letras blancas** escribirás si es **vocal o consonante**

<b>A</b>	amor	<b>8</b>		<b>T</b>		U	
<b>1</b>	uno	<b>4</b>		1		<b>E</b>	
6	par	<b>S</b>		<b>S</b>		<b>5</b>	
E	vocal	0		7		i	
4		6		9		1	
<b>3</b>		<b>5</b>		E		2	
<b>J</b>		<b>4</b>		6		<b>M</b>	
<b>E</b>		<b>7</b>		<b>1</b>		<b>E</b>	
<b>2</b>		<b>B</b>		<b>F</b>		<b>8</b>	
<b>T</b>		3		3		<b>A</b>	
<b>O</b>		<b>S</b>		<b>2</b>		<b>4</b>	
Q		L		P		<b>3</b>	
0		1		6		9	
<b>D</b>		<b>5</b>		<b>G</b>		<b>U</b>	
<b>7</b>		<b>E</b>		9		3	
9		8		0		<b>1</b>	
<b>5</b>		<b>V</b>		<b>C</b>		<b>E</b>	
N		<b>Z</b>		<b>4</b>		9	
0		6		E		A	

Fecha: \_\_\_\_\_ Hora: \_\_\_\_\_

## PRAXIA VISOCONSTRUCTIVA

Copia la siguiente figura de la forma más parecida que puedas



**Copia:**

Fecha: \_\_\_\_\_ Hora: \_\_\_\_\_  
[www.neuropsicologiagdb.com](http://www.neuropsicologiagdb.com)

## FLUENCIA VERBAL FONOLÓGICA

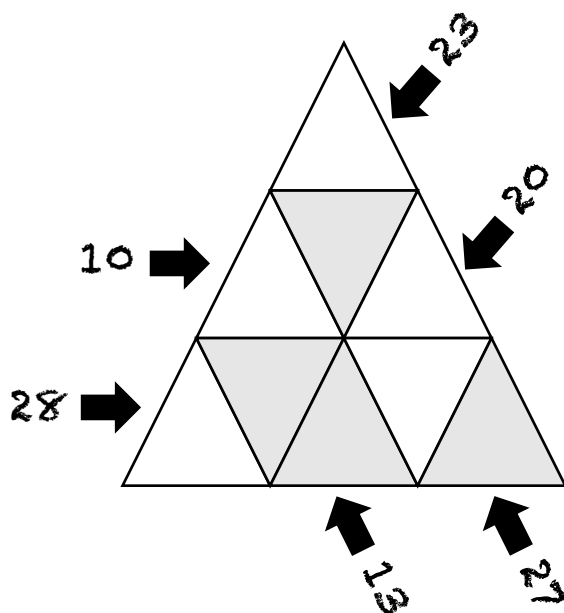
Escribe 25 palabras que empiecen por las siguientes sílabas, intenta que no sean nombres propios:

	LE	TA	PO	RI
1				
2				
3				
4				
5				
6				
7				
8				
9				
10				
11				
12				
13				
14				
15				
16				
17				
18				
19				
20				
21				
22				
23				
24				
25				

Fecha: \_\_\_\_\_ Hora: \_\_\_\_\_

## RAZONAMIENTO

Coloca en cada triángulo números del 1 al 9 para que la suma de líneas de triángulos coincida con el número dado. Tienes una pista, en los triángulos grises debes colocar números pares. Hay nueve triángulos y debes colocar 9 números, no puedes repetir número y todos los triángulos deben contener un número



## MEMORIA DE TRABAJO

Comienza desde el uno y ve haciendo mentalmente la operación que corresponde en cada casilla:

**+** suma 5

**-** Resta 3

**X** multiplica por 2

Pon en la casilla final el número al que has llegado

<b>1</b>	+	X	-	-	+	+	-	X	+	
										-
-	-	-	+	X	-	-	+	+	-	
+										
-	-	+	-	-	-	+	+	X	-	
										-
X	-	-	-	+	-	+	-	+	-	
-										
-	-	+	-	-	-	+	+	-	+	
										-
-	-	-	+	+	+	-	-	-	+	
-										
X	+	+	+	-	-	-	-	X		

Fecha: \_\_\_\_\_ Hora: \_\_\_\_\_

## PLANIFICACIÓN

Imagina que tienes que planificar o ayudar a un familiar a planificar su boda, escribe 20 pasos ordenados sobre acciones o decisiones que se deber ir tomando para poder hacer la ceremonia y la celebración, no pueden ser más o menos pasos, deben ser exactamente 20



1

2

3

4

5

6

7

8

9

10

11

12

13

14

15

16

17

18

19

20

Fecha: \_\_\_\_\_ Hora: \_\_\_\_\_

## ABSTRACCIÓN

Señala la variable o categoría a la que pertenecen los siguientes grupos de palabras

Pobre
Mendigo
Millonario
Pudiente
Acaudalado
<input type="text"/>

Sabio
Inculto
Conocedor
Ignorante
Culto
<input type="text"/>

Sorpresa
Asco
Ira
Alegría
Tristeza
<input type="text"/>

Sur
Norte
Sureste
Este
Oeste
<input type="text"/>

Abuelo
Padre
Primo
Cuñado
Sobrino
<input type="text"/>

Grande
Pequeño
Mediano
Enorme
Diminuto
<input type="text"/>

## ATENCIÓN SELECTIVA

Cuenta mentalmente la cantidad de vocales que aparecen en el siguiente soneto de Federico García Lorca

Este pichón del Turia que te mando,  
de dulces ojos y de blanca pluma,  
sobre laurel de Grecia vierte y suma  
llama lenta de amor do estoy parando.

Su cándida virtud, su cuello blando,  
en limo doble de caliente espuma,  
con un temblor de escarcha, perla y bruma  
la ausencia de tu boca está marcando.

Pasa la mano sobre tu blancura  
y verás qué nevada melodía  
esparce en copos sobre tu hermosura.

Así mi corazón de noche y día,  
preso en la cárcel del amor oscura,  
llora, sin verte, su melancolía.

¿Cuántas son en total? \_\_\_\_\_

















































¿Y cuántas de cada tipo?

A: \_\_\_\_\_ ; E: \_\_\_\_\_ ; I: \_\_\_\_\_ ; O: \_\_\_\_\_ ; U \_\_\_\_\_

Fecha: \_\_\_\_\_ Hora: \_\_\_\_\_

## FEXIBILIDAD

Escribe al lado de cada figura la siguiente información:  
**Si la figura es blanca** pon el nombre de la forma geométrica  
**Si la figura es negra** pon el número de lados que tiene

	Cinco				
	Trapezio				
					
					
					
					
					
					
					
					
					
					
					
					
					
					

Fecha: \_\_\_\_\_ Hora: \_\_\_\_\_

## FLUENCIA VERBAL FONOLÓGICA

Escribe 25 palabras que empiecen por las siguientes sílabas, intenta que no sean nombres propios:

	Pi	Cu	Sa	Ne
1				
2				
3				
4				
5				
6				
7				
8				
9				
10				
11				
12				
13				
14				
15				
16				
17				
18				
19				
20				
21				
22				
23				
24				
25				

Fecha: \_\_\_\_\_ Hora: \_\_\_\_\_

## ATENCIÓN SOSTENIDA

Descifra los siguientes mensajes de acuerdo con el código:

A=1, b=2, c=3, d=4, e=5, f=6, g=7, h=8, i=9, j=10, k=11,  
l=12, m=13, n=14, ñ=15, o=16, p=17, q=18, r=19, s=20,  
t=21, u=22, v=23, w=24, x=25, y=26, z=27

1 - 23/5/3/5/20 - 12/1 - 22/12/21/9/13/1 - 12/12/1/23/5 -  
5/20 - 12/1 - 18/22/5 - 1/2/19/5 - 12/1 - 17/22/5/19/21/1

---

---

---

20/9 - 18/22/9/5/19/5/20 - 23/5/19 - 13/1/20 -  
12/5/10/16/20 - 20/22/2/5/21/5 - 1 - 12/16/20 -  
8/16/13/2/19/16/20 - 4/5 - 22/14 - 7/9/7/1/14/21/5

---

---

---

Fecha: \_\_\_\_\_ Hora: \_\_\_\_\_

## MEMORIA DE TRABAJO

Haz los siguientes cálculos mentalmente y anota el resultado

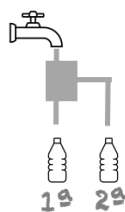
	Resultado		Resultado
Resta 6 veces 7 a 200	158	Resta 6 veces 8 a 500	
Resta 5 veces 5 a 100		Resta 4 veces 4 a 40	
Resta 8 veces 4 a 500		Resta 8 veces 8 a 900	
Resta 2 veces 9 a 150		Resta 7 veces 7 a 800	
Resta 6 veces 8 a 100		Resta 5 veces 7 a 200	
Resta 9 veces 4 a 120		Resta 10 veces 6 a 94	
Resta 5 veces 2 a 20		Resta 5 veces 1 a 83	
Resta 5 veces 7 a 100		Resta 6 veces 5 a 600	
Resta 6 veces 6 a 90		Resta 11 veces 4 a 95	
Resta 2 veces 9 a 50		Resta 9 veces 3 a 60	
Resta 6 veces 4 a 200		Resta 3 veces 3 a 26	
Resta 5 veces 10 a 60		Resta 15 veces 2 a 87	
Resta 7 veces 7 a 250		Resta 7 veces 7 a 100	
Resta 20 veces 2 a 90		Resta 9 veces 9 a 900	

Fecha: \_\_\_\_\_ Hora: \_\_\_\_\_

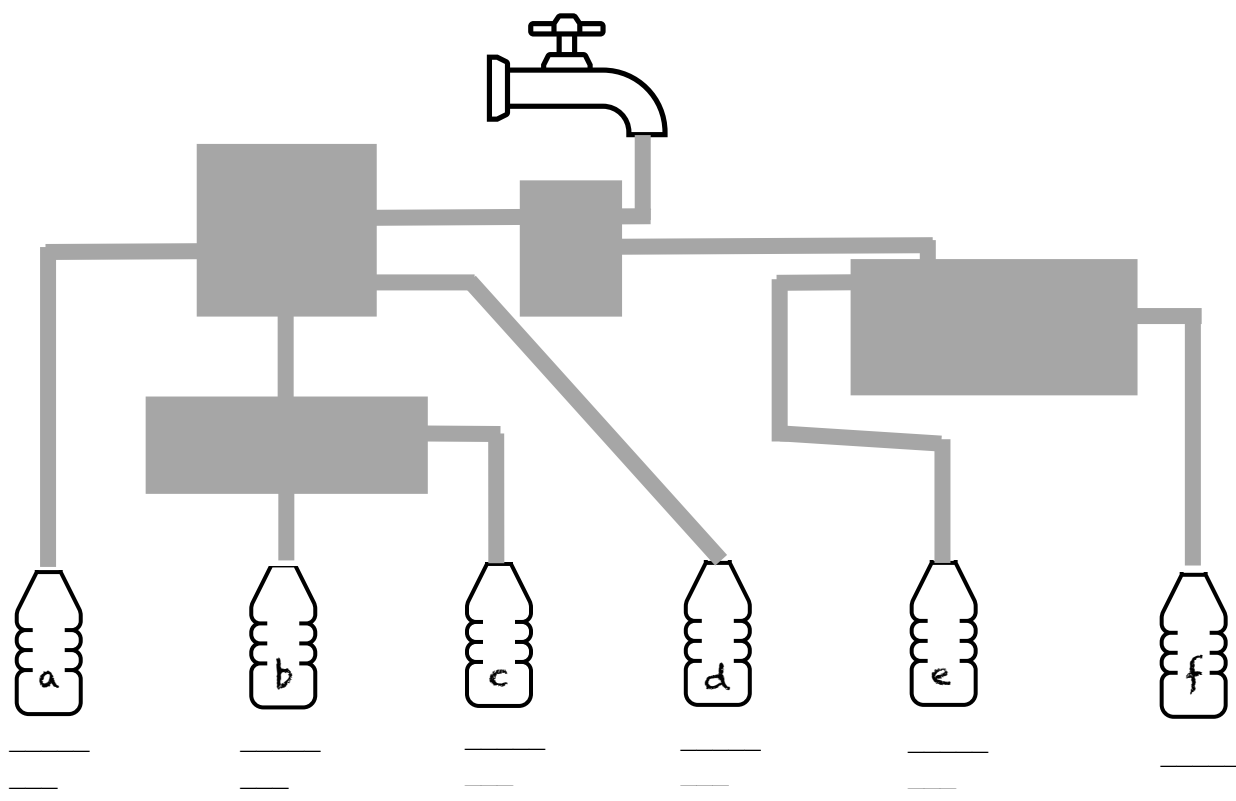
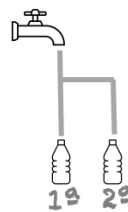
## RAZONAMIENTO

Indica el orden en el que crees que se llenarán las botellas, entiende que el flujo del agua se extiende por todo el circuito. Ten en cuenta los depósitos.  
Mira los ejemplos:

Ejemplo 1



Ejemplo 2





## ATENCIÓN SELECTIVA

Tacha los números pares de las columnas impares y los números impares de las columnas pares

2	1	3	4	7	5	6	8	9	1	3	2	4	5	6	9	8	7	2
1	4	3	9	6	5	8	7	3	4	2	1	5	6	9	8	7	9	1
9	1	3	4	7	5	6	8	2	4	5	8	7	3	4	4	5	6	5
3	4	2	9	6	5	8	7	1	5	3	2	4	5	6	5	6	9	3
4	3	4	5	8	4	3	4	5	4	4	5	6	8	4	3	4	5	5
9	2	5	5	7	9	2	5	4	9	6	3	4	7	9	2	5	3	5
4	5	7	4	4	4	5	7	9	5	4	5	9	4	4	5	7	5	4
9	3	4	9	5	9	3	4	4	5	9	5	4	5	9	3	4	5	9
9	1	3	2	9	8	7	2	7	5	6	8	9	8	7	2	5	5	7
3	4	2	1	8	7	9	1	6	5	8	7	8	7	9	1	5	3	4
2	4	5	8	4	5	6	5	7	5	6	8	4	5	6	5	8	9	1
1	5	3	2	5	6	9	3	6	5	8	7	5	6	9	3	7	3	4
5	4	4	5	3	4	5	5	8	4	3	4	3	4	5	5	8	2	4
4	9	6	3	2	5	3	5	7	9	2	5	2	5	3	5	7	1	5
9	5	4	5	5	7	5	4	4	4	5	7	5	7	5	4	4	5	4
4	5	9	5	3	4	5	9	5	9	3	4	3	4	5	9	8	9	8
7	5	6	8	9	1	3	2	6	5	8	7	3	4	5	9	7	8	7
6	5	8	7	3	4	2	1	7	5	6	8	9	1	3	2	8	4	5
7	5	6	8	2	4	5	8	6	5	8	7	3	4	2	1	7	5	6
6	5	8	7	1	5	3	2	8	4	3	4	2	4	5	8	4	3	4
8	4	3	4	5	4	4	5	7	9	2	5	1	5	3	2	5	2	5
7	9	2	5	4	9	6	3	4	4	5	7	5	4	4	5	7	5	7
4	4	5	7	9	5	4	5	5	9	3	4	4	9	6	3	4	3	4
5	9	3	4	4	5	9	5	5	4	9	6	9	5	4	5	8	7	2
5	4	4	4	5	1	3	2	7	5	6	8	9	8	7	2	7	9	1
5	9	5	9	3	4	2	1	6	5	8	7	8	7	9	1	5	6	5
3	2	6	5	8	4	5	8	7	5	6	8	4	5	6	5	6	9	3
2	1	7	5	6	5	3	2	6	5	8	7	5	6	9	3	4	5	5
5	8	6	5	8	4	4	5	8	4	3	4	3	4	5	5	5	3	5
3	2	8	4	3	9	6	3	7	9	2	5	2	5	3	5	7	5	4
4	5	7	9	2	9	5	3	4	4	5	7	5	7	5	4	8	7	5
6	3	4	4	5	6	8	9	5	9	3	4	3	4	5	9	3	4	3

Fecha: \_\_\_\_\_ Hora: \_\_\_\_\_

## FLUENCIA VERBAL FONOLÓGICA

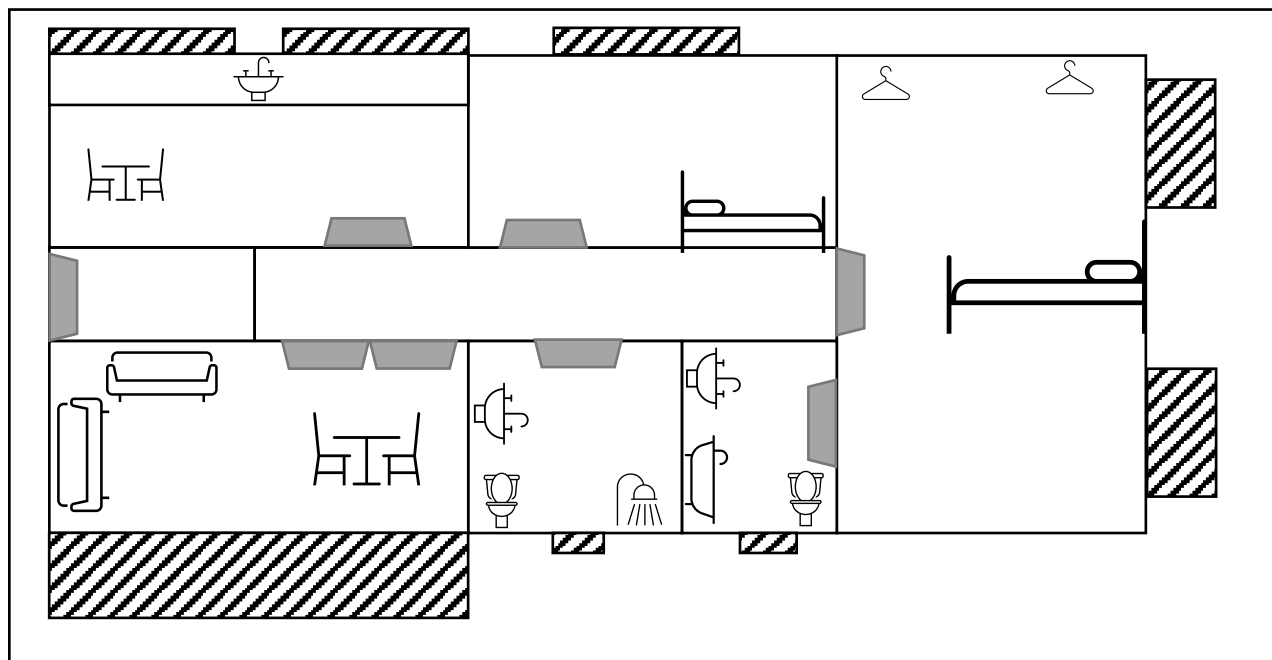
Escribe 25 palabras que empiecen por las siguientes sílabas, intenta que no sean nombres propios:

	La	Ma	Pe	Te
1				
2				
3				
4				
5				
6				
7				
8				
9				
10				
11				
12				
13				
14				
15				
16				
17				
18				
19				
20				
21				
22				
23				
24				
25				

Fecha: \_\_\_\_\_ Hora: \_\_\_\_\_

## PRAXIA VISOCONSTRUCTIVA

Copia el plano del piso de la forma más parecida que puedas



Copia:

Fecha: \_\_\_\_\_ Hora: \_\_\_\_\_  
[www.neuropsicologiagdb.com](http://www.neuropsicologiagdb.com)

## PLANIFICACIÓN

Imagina que tienes que planificar cómo conseguir un título universitario, escribe 15 pasos ordenados sobre acciones o decisiones que se deber ir tomando para poder cumplir tu objetivo, no pueden ser más o menos pasos, deben ser exactamente 15



1

2

3

4

5

6

7

8

9

10

11

12

13

14

15

Fecha: \_\_\_\_\_ Hora: \_\_\_\_\_

## ABSTRACCIÓN

Señala la variable o categoría a la que pertenecen los siguientes grupos de palabras

Líquido
Sólido
Gaseoso
<input type="text"/>

Música
Poesía
Pintura
Teatro
Danza
<input type="text"/>

Semilla
Feto
Brote
Embrión
<input type="text"/>

Globo
Avión
Águila
<input type="text"/>

Rueda
Ruleta
Disco
Anillo
Neumático
<input type="text"/>

Cuchilla
Tijera
Cúter
Hacha
Navaja
<input type="text"/>

## MEMORIA DE TRABAJO

Comienza desde el uno y ve haciendo mentalmente la operación que corresponde en cada casilla:

**+** suma 2

**-** Resta 3

**X** multiplica por 2

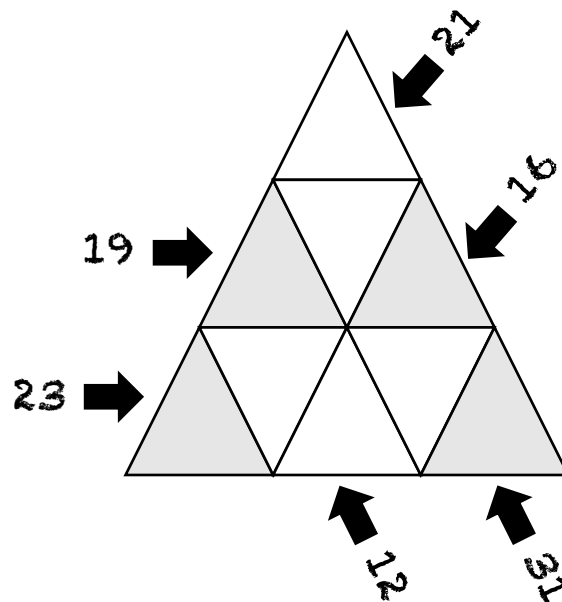
Pon en la casilla final el número al que has llegado

<b>1</b>	+	X	-	+	+	X	-	X	+	
										+
+	-	X	+	-	-	+	+	+	-	
+										
-	+	+	-	-	X	+	+	+	-	
										-
+	-	-	-	+	-	+	-	+	-	
-										
-	-	+	+	-	-	+	X	-	+	
										-
-	-	-	+	+	+	-	-	-	+	
-										
+	+	+	+	-	-	+	-	-		

Fecha: \_\_\_\_\_ Hora: \_\_\_\_\_





























## RAZONAMIENTO

Coloca en cada triángulo números del 1 al 9 para que la suma de líneas de triángulos coincida con el número dado. Tienes una pista, en los triángulos grises debes colocar números pares. Hay nueve triángulos y debes colocar 9 números, no puedes repetir número y todos los triángulos deben contener un número



## FEXIBILIDAD

Completa los cuadros poniendo de forma alterna **nombre del objeto** - **color** del dibujo (blanco, negro o gris) - **lugar** en el que lo puedes encontrar (no hay una respuesta exacta para el lugar)

	Despertador		
	Blanco		
	Playa		
			
			
			
			
			
			
			
			
			
			
			

Fecha: \_\_\_\_\_ Hora: \_\_\_\_\_

## ATENCIÓN SELECTIVA

Tacha los números que vayan seguidos del inmediatamente mayor por ejemplo, tacharás el 1 si va seguido del 2 o el 2 si tiene un 3 a su derecha, así respectivamente hasta el 8 si va seguido del 9.

2	1	3	4	7	5	6	8	9	1	3	2	4	5	6	9	8	7	2
1	4	3	9	6	5	8	7	3	4	2	1	5	6	9	8	7	9	1
9	1	3	4	7	5	6	8	2	4	5	8	7	3	4	4	5	6	5
3	4	2	9	6	5	8	7	1	5	3	2	4	5	6	5	6	9	3
4	3	4	5	8	4	3	4	5	4	4	5	6	8	4	3	4	5	5
9	2	5	5	7	9	2	5	4	9	6	3	4	7	9	2	5	3	5
4	5	7	4	4	4	5	7	9	5	4	5	9	4	4	5	7	5	4
9	3	4	9	5	9	3	4	4	5	9	5	4	5	9	3	4	5	9
9	1	3	2	9	8	7	2	7	5	6	8	9	8	7	2	5	5	7
3	4	2	1	8	7	9	1	6	5	8	7	8	7	9	1	5	3	4
2	4	5	8	4	5	6	5	7	5	6	8	4	5	6	5	8	9	1
1	5	3	2	5	6	9	3	6	5	8	7	5	6	9	3	7	3	4
5	4	4	5	3	4	5	5	8	4	3	4	3	4	5	5	8	2	4
4	9	6	3	2	5	3	5	7	9	2	5	2	5	3	5	7	1	5
9	5	4	5	5	7	5	4	4	4	5	7	5	7	5	4	4	5	4
4	5	9	5	3	4	5	9	5	9	3	4	3	4	5	9	8	9	8
7	5	6	8	9	1	3	2	6	5	8	7	3	4	5	9	7	8	7
6	5	8	7	3	4	2	1	7	5	6	8	9	1	3	2	8	4	5
7	5	6	8	2	4	5	8	6	5	8	7	3	4	2	1	7	5	6
6	5	8	7	1	5	3	2	8	4	3	4	2	4	5	8	4	3	4
8	4	3	4	5	4	4	5	7	9	2	5	1	5	3	2	5	2	5
7	9	2	5	4	9	6	3	4	4	5	7	5	4	4	5	7	5	7
4	4	5	7	9	5	4	5	5	9	3	4	4	9	6	3	4	3	4
5	9	3	4	4	5	9	5	5	4	9	6	9	5	4	5	8	7	2
5	4	4	4	5	1	3	2	7	5	6	8	9	8	7	2	7	9	1
5	9	5	9	3	4	2	1	6	5	8	7	8	7	9	1	5	6	5
3	2	6	5	8	4	5	8	7	5	6	8	4	5	6	5	6	9	3
2	1	7	5	6	5	3	2	6	5	8	7	5	6	9	3	4	5	5
5	8	6	5	8	4	4	5	8	4	3	4	3	4	5	5	5	3	5
3	2	8	4	3	9	6	3	7	9	2	5	2	5	3	5	7	5	4
4	5	7	9	2	9	5	3	4	4	5	7	5	7	5	4	8	7	5
6	3	4	4	5	6	8	9	5	9	3	4	3	4	5	9	3	4	3

Fecha: \_\_\_\_\_ Hora: \_\_\_\_\_

## FLUENCIA VERBAL SEMÁNTICA

Escribe 25 palabras que pertenezcan a las siguientes categorías:

	Deportes	Frutas	Profesiones	Flores
1				
2				
3				
4				
5				
6				
7				
8				
9				
10				
11				
12				
13				
14				
15				
16				
17				
18				
19				
20				
21				
22				
23				
24				
25				

Fecha: \_\_\_\_\_ Hora: \_\_\_\_\_

## MEMORIA DE TRABAJO

Busca las siguientes matriculas:

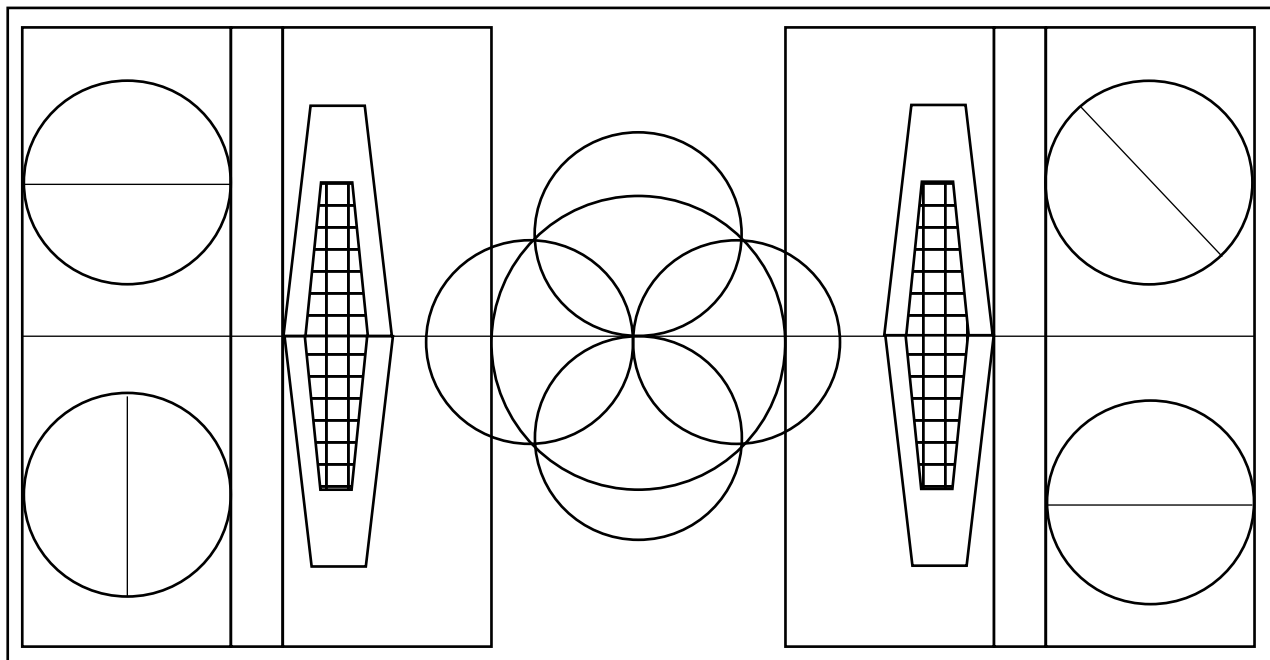
- |                                  |   |
|----------------------------------|---|
| 1. La suma de sus números es 20  | 5. El número más grande                 |
| 2. Es capicúa                    | 6. Está repetida                        |
| 3. Todos sus números son impares | 7. Sus letras están en orden alfabético |
| 4. El número más pequeño         | 8. Sus letras forman una palabra        |

8746 JHF	1756 JIN	9746 DPF
1456 TFB	8895 LJN	0146 APS
8987 VBM	8786 JOG	8345 EUF
2578 BBJ	9746 DPF	5746 JUF
9135 MNR	0746 OPQ	3471 PRY
9072 LUN	9609 ASR	7887 PLK
8963 SEL	8041 RHF	8793 THF
8756 GMI	3472 PDY	9986 JHF
3746 JUF	8716 SAL	1746 BOC
8186 KHF	8812 JFL	0021 XYF

Fecha: \_\_\_\_\_ Hora: \_\_\_\_\_

## PRAXIA VISOCONSTRUCTIVA

Copia la figura de la forma más parecida que puedas



**Copia:**

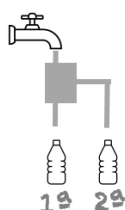
Fecha: \_\_\_\_\_ Hora: \_\_\_\_\_  
[www.neuropsicologiagdb.com](http://www.neuropsicologiagdb.com)

## RAZONAMIENTO

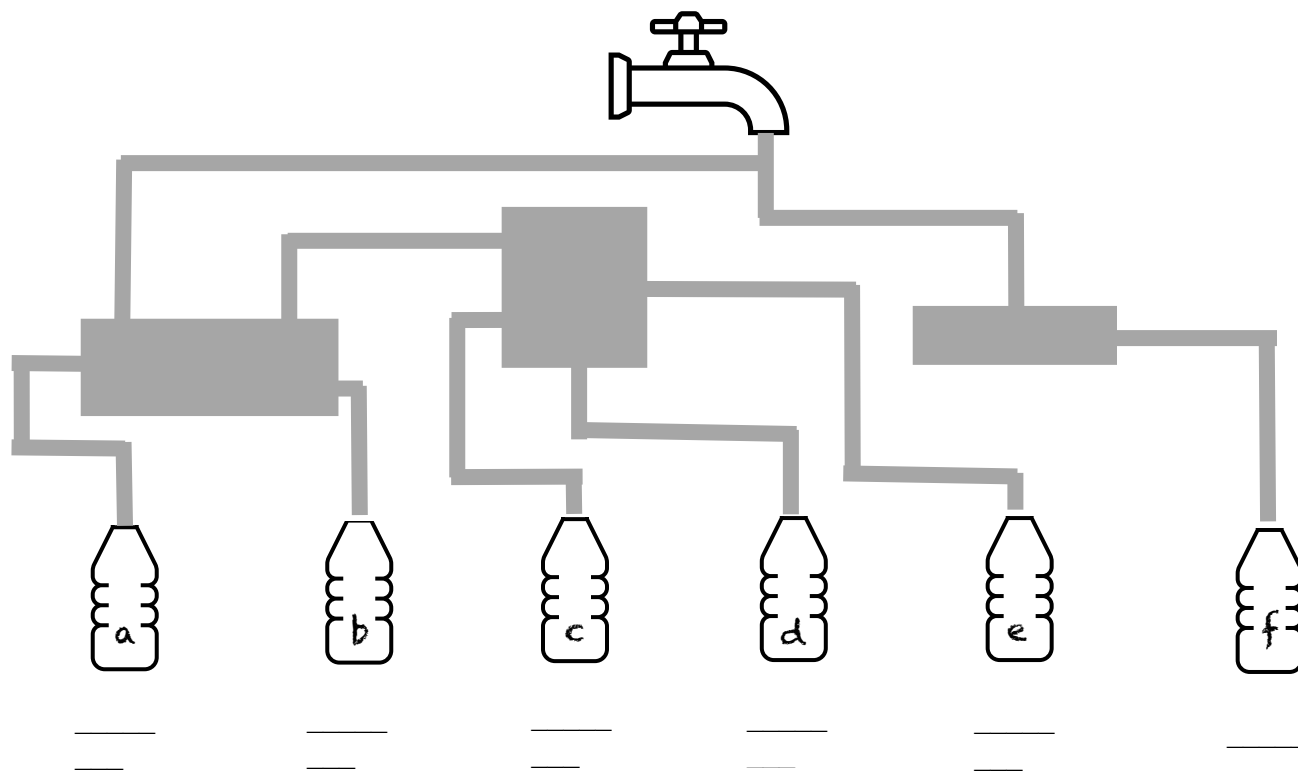
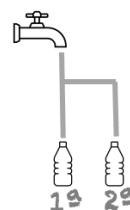
Indica el orden en el que crees que se llenarán las botellas, entiende que el flujo del agua se extiende por todo el circuito. Ten en cuenta los depósitos.

Mira los ejemplos:

Ejemplo 1



Ejemplo 2



Fecha: \_\_\_\_\_ Hora: \_\_\_\_\_

## ATENCIÓN SOSTENIDA

Descifra los siguientes mensajes de acuerdo con el código:

A=1, b=2, c=3, d=4, e=5, f=6, g=7, h=8, i=9, j=10, k=11,  
l=12, m=13, n=14, ñ=15, o=16, p=17, q=18, r=19, s=20,  
t=21, u=22, v=23, w=24, x=25, y=26, z=27

8/1/26 – 20/9/12/5/14/3/9/16/20 – 18/22/5 – 4/9/3/5/14 –  
21/16/4/16 – 26 – 17/1/12/1/2/19/1/20 – 18/22/5 – 14/16 –  
4/9/3/5/14 – 14/1/4/1

---

---

---

14/16 – 5/19/5/20 – 12/16 – 18/22/5 – 12/16/7/19/1/20 –  
5/19/5/20 – 12/16 – 18/22/5 – 20/22/17/5/19/1/20

---

---

---

Fecha: \_\_\_\_\_ Hora: \_\_\_\_\_

## MEMORIA DE TRABAJO

Ordena las siguientes palabras de las frases del cuento  
*"el sabio y el escorpión"*

orilla paseaba una monje vez un en sabio Había que a su discípulo la de un río. junto

---

---

---

como su, vio un caído escorpión había al y Durante se caminar salvarlo ahogando, y la decisión de sacándolo del agua. agua tomó estaba

---

---

---

al monje mano, dolor hizo vez en su el animal le picó. Pero El que el escorpión, que a caer al agua. una volvió soltara

---

---

---

ayudar, picar, naturaleza monje, que la del es la de que la de él no era que la de así mientras que lo intentando. El dijo escorpión otra seguiría

---

---

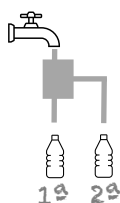
---

Fecha: \_\_\_\_\_ Hora: \_\_\_\_\_

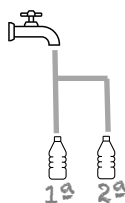
## RAZONAMIENTO

Indica el orden en el que crees que se llenarán las botellas, entiende que el flujo del agua se extiende por todo el circuito. Ten en cuenta los depósitos.  
Mira los ejemplos:

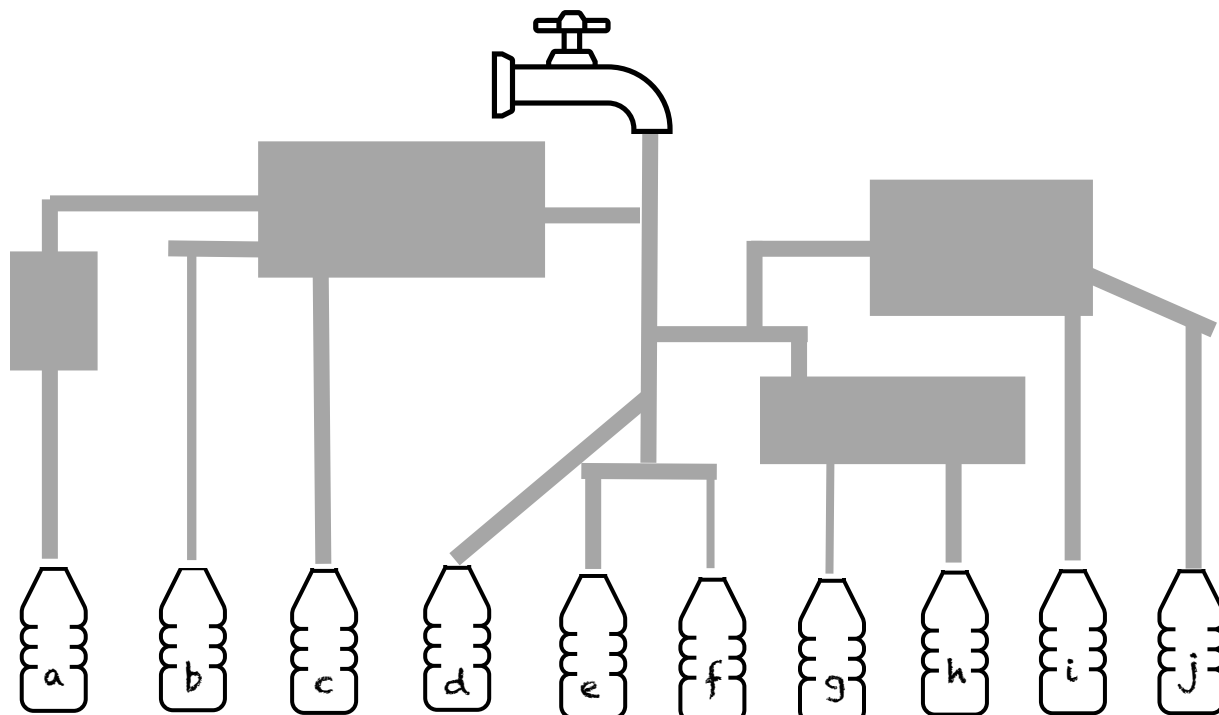
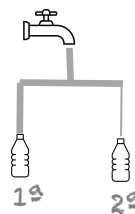
Ejemplo 1



Ejemplo 2



Ejemplo 3



\_\_\_\_\_

\_\_\_\_\_

\_\_\_\_\_

\_\_\_\_\_

\_\_\_\_\_

\_\_\_\_\_

\_\_\_\_\_

\_\_\_\_\_

\_\_\_\_\_

\_\_\_\_\_

Fecha: \_\_\_\_\_ Hora: \_\_\_\_\_

## ABSTRACCIÓN

Señala la variable o categoría a la que pertenecen los siguientes grupos de palabras

Libro
Revista
Periódico
Ordenador
Google

Lápiz
Mesa
Guitarra
Zueco
Puerta

Barco
Pato
Boya
Corcho
Tabla de surf

Una pluma
El algodón
Una pelusa
Un diente de león
La paja



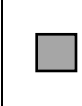
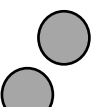

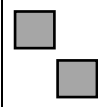



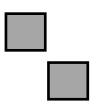



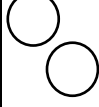


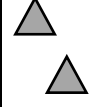
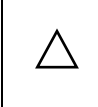
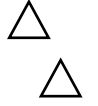

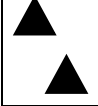

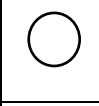
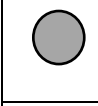


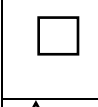



Gel
Legía
Amoniaco
Champú
Detergente

Peonza
Trompo
Veleta
Diábolo
Molino

Fecha: \_\_\_\_\_ Hora: \_\_\_\_\_

## FLEXIBILIDAD

Clasifica las siguientes cuadrículas por color (gris, negro, blanco), por número (uno, dos, tres) o forma (círculo, cuadrado, triángulo). Cambia el criterio cada dos cartas y sigue el orden: color, número, forma.

	Blanco				
	Gris				
	Uno				
					
					
					
					
					
					
					

Fecha: \_\_\_\_\_ Hora: \_\_\_\_\_

## FLUENCIA VERBAL SEMÁNTICA

Escribe 15 palabras que pertenezcan a las siguientes categorías:

	Embutidos	Verduras	Pescados	Espicias
1				
2				
3				
4				
5				
6				
7				
8				
9				
10				
11				
12				
13				
14				
15				

Fecha: \_\_\_\_\_ Hora: \_\_\_\_\_

## ATENCIÓN SOSTENIDA

Todos los símbolos se repiten al menos una vez, excepto uno que es único, ¿cuál es? \_\_\_\_\_

*	-	?	i	`	..	>	“	<	+
(	%	*	?	)	.	!	o	[	.
)	:	;	`	¿	(	#	/	%	}
>	¿	(	[	o	@	.	&	a	¿
..	.	?	<	^	{	+	-	^	..
o	a	-	>	“	/	{	;	%	[
{	}	#	\$	*	`	\$	)	=	i
@	`	^	!	?	>	&	a	:	;

Fecha: \_\_\_\_\_ Hora: \_\_\_\_\_

## RAZONAMIENTO Y CÁLCULO

Coloca los signos  $+$ ,  $-$  o  $\times$  entre los números para que se cumplan las igualdades añadiendo paréntesis para agrupar los cálculos (recuerda que el producto siempre tendrá prioridad sobre la suma o la resta)

$$4 \quad 3 \quad 2 \quad 1 = 1$$

$$4 \quad 3 \quad 2 \quad 1 = 2$$

$$4 \quad 3 \quad 2 \quad 1 = 3$$

$$4 \quad 3 \quad 2 \quad 1 = 4$$

$$4 \quad 3 \quad 2 \quad 1 = 5$$

$$4 \quad 3 \quad 2 \quad 1 = 6$$

$$4 \quad 3 \quad 2 \quad 1 = 7$$

$$4 \quad 3 \quad 2 \quad 1 = 8$$

$$4 \quad 3 \quad 2 \quad 1 = 9$$

$$4 \quad 3 \quad 2 \quad 1 = 10$$

$$4 \quad 3 \quad 2 \quad 1 = 11$$

$$4 \quad 3 \quad 2 \quad 1 = 12$$

$$4 \quad 3 \quad 2 \quad 1 = 13$$

$$4 \quad 3 \quad 2 \quad 1 = 14$$


$$4 \quad 3 \quad 2 \quad 1 = 15$$

$$4 \quad 3 \quad 2 \quad 1 = 16$$

Fecha: \_\_\_\_\_ Hora: \_\_\_\_\_

## PRAXIA VISOCONSTRUCTIVA

Copia la figura de la forma más parecida que puedas



Fecha: \_\_\_\_\_ Hora: \_\_\_\_\_  
[www.neuropsicologiagdb.com](http://www.neuropsicologiagdb.com)

## PLANIFICACIÓN

Imagina que tienes que planificar una gran fiesta de nochevieja, escribe 20 pasos ordenados sobre acciones o decisiones que se deber ir tomando para poder llevarla a cabo, no pueden ser más o menos pasos, deben ser exactamente 20



1

2

3

4

5

6

7

8

9

10

11

12

13

14

15

16

17

18

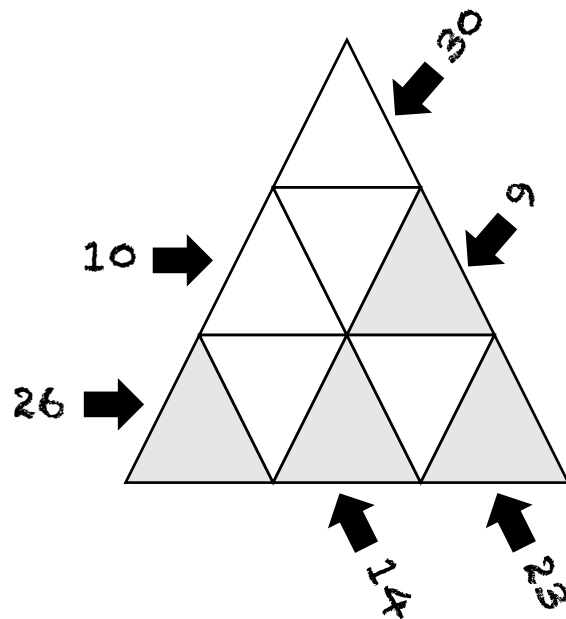
19

20

Fecha: \_\_\_\_\_ Hora: \_\_\_\_\_

## RAZONAMIENTO

Coloca en cada triángulo números del 1 al 9 para que la suma de líneas de triángulos coincida con el número dado. Tienes una pista, en los triángulos grises debes colocar números pares. Hay nueve triángulos y debes colocar 9 números, no puedes repetir número y todos los triángulos deben contener un número



## ATENCIÓN SOSTENIDA

Transcribe el poema "Canción última" de Miguel Hernández, sustituyendo las vocales por números (A=1, E=2, I=3, O=4, U=5)

Pintada, no vacía:

*P3nt1d1, n4 v1c3a:*

pintada está mi casa

del color de las grandes

pasiones y desgracias.

Regresará del llanto

adonde fue llevada

con su desierta mesa

con su ruinosa cama.

Florecerán los besos

sobre las almohadas.

Y en torno de los cuerpos

elevantará la sábana

su intensa enredadera

nocturna, perfumada.

El odio se amortigua

detrás de la ventana.

Será la garra suave.

Dejadme la esperanza.

Fecha: \_\_\_\_\_ Hora: \_\_\_\_\_



## MEMORIA DE TRABAJO

Busca las siguientes matriculas:

- |                                  |   |
|----------------------------------|---|
| 1. La suma de sus números es 30  | 5. El número más grande                 |
| 2. Es capicúa                    | 6. Está repetida                        |
| 3. Todos sus números son impares | 7. Sus letras están en orden alfabético |
| 4. El número más pequeño         | 8. Sus letras forman una palabra        |

8746 JHF	1706 JIN	8740 JGF
1456 TFB	8895 LJN	0146 APS
8987 VBM	8786 JOG	8345 EUF
2578 BBJ	9746 DPF	5746 JUF
9084 MAR	0746 RUG	3472 PDY
9072 LUN	9669 ASR	1597 POK
8963 SEL	8041 RHF	8793 THF
8756 GHI	3472 PDY	8286 JHF
3746 JUF	8716 EHG	1746 BOC
8186 KHF	8812 JFL	0721 XYF

Fecha: \_\_\_\_\_ Hora: \_\_\_\_\_

## FLUENCIA VERBAL FONOLÓGICA

Escribe 25 palabras que empiecen por las siguientes sílabas, intenta que no sean nombres propios:

	Li	Re	Ca	Se
1				
2				
3				
4				
5				
6				
7				
8				
9				
10				
11				
12				
13				
14				
15				
16				
17				
18				
19				
20				
21				
22				
23				
24				
25				

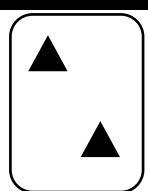
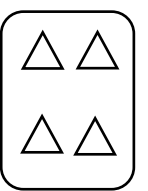

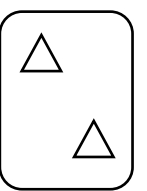
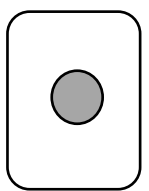
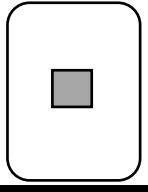
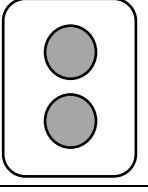
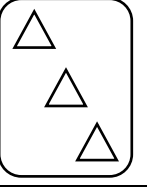

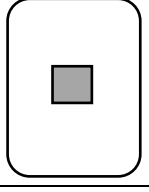

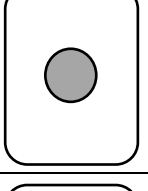


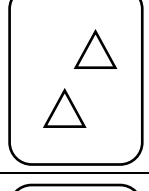
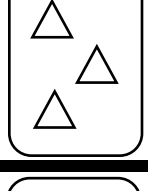

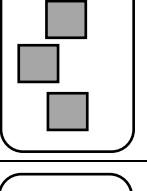

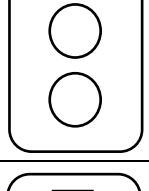
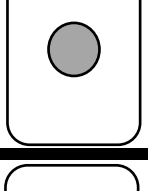
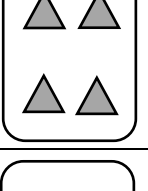






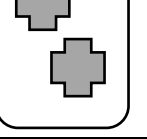
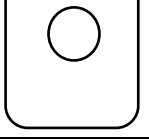
Fecha: \_\_\_\_\_ Hora: \_\_\_\_\_

## FEXIBILIDAD

Tendrás que emparejar la carta de la izquierda con una de las cartas de la derecha, con la 1, la 2, la 3 o la 4, teniendo en cuenta que:

Si hay una carta idéntica (que coincide en color, forma y número):  
se emparejará con ella

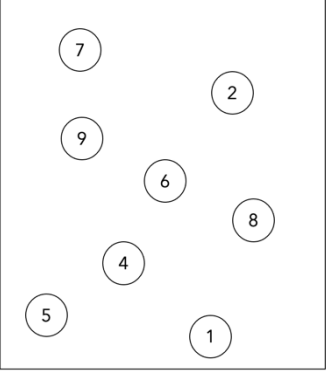
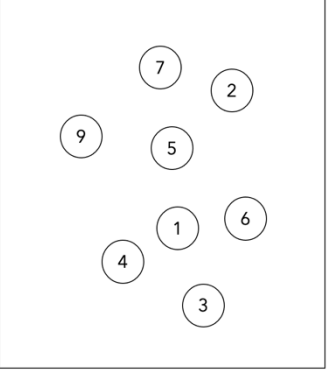
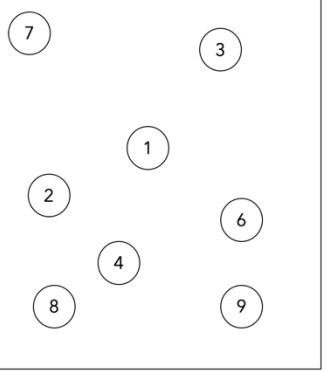
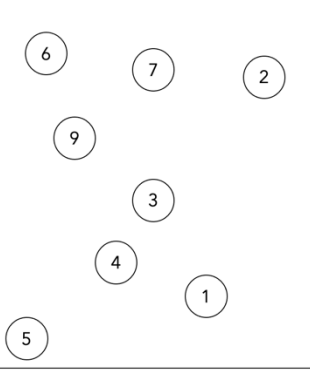
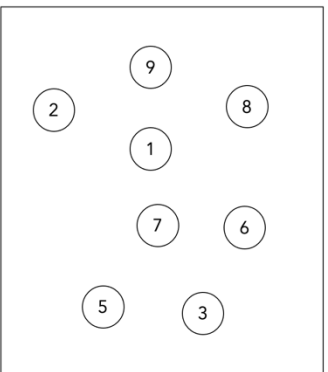
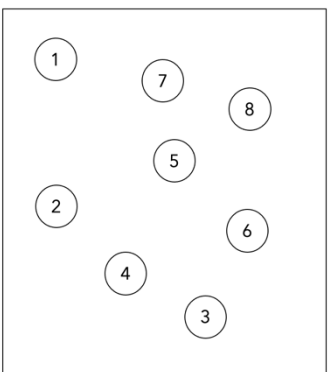
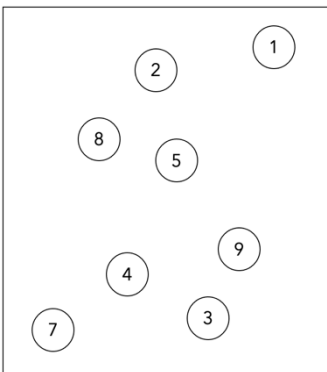
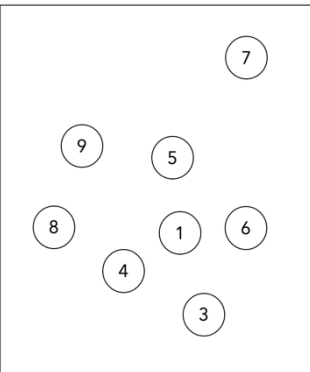
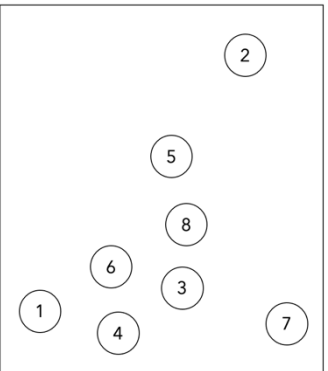
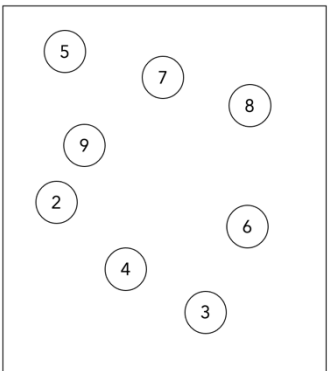
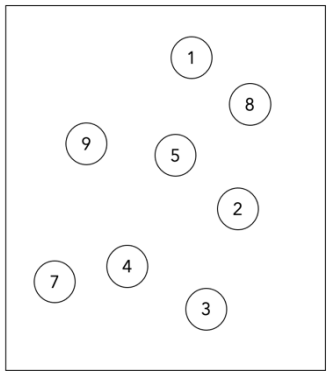
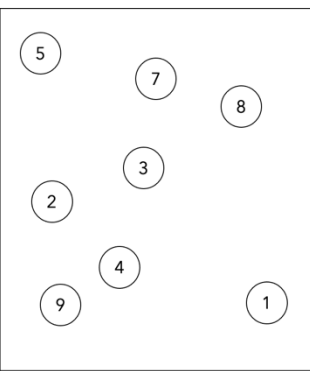
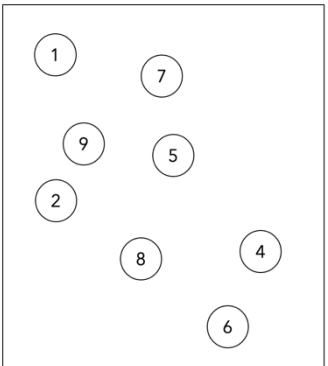
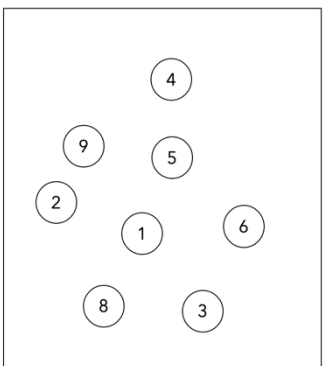
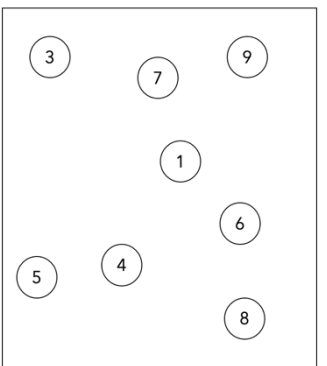
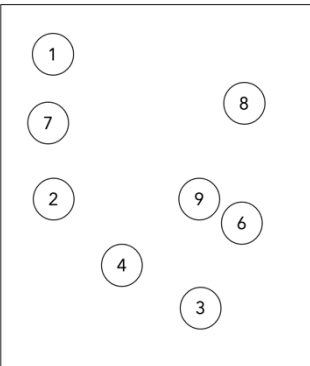
Si no hay una carta idéntica se clasifica con la que no coincida ni en forma, ni en color, ni en número

	1	2	3	4	Respuesta
					
					
					
					
					
					

Fecha: \_\_\_\_\_ Hora: \_\_\_\_\_

## ATENCIÓN SELECTIVA

En cada cuadro falta un número del 1 al 9. Encuéntralos tan rápido como puedas y escríbelo para que cada cuadro contenga todos los números

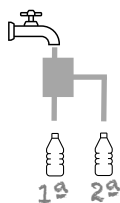
			
			
			
			

Fecha: \_\_\_\_\_ Hora: \_\_\_\_\_

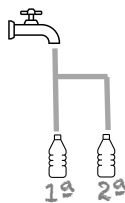
## RAZONAMIENTO

Indica el orden en el que crees que se llenarán las botellas, entiende que el flujo del agua se extiende por todo el circuito. Ten en cuenta los depósitos.  
Mira los ejemplos:

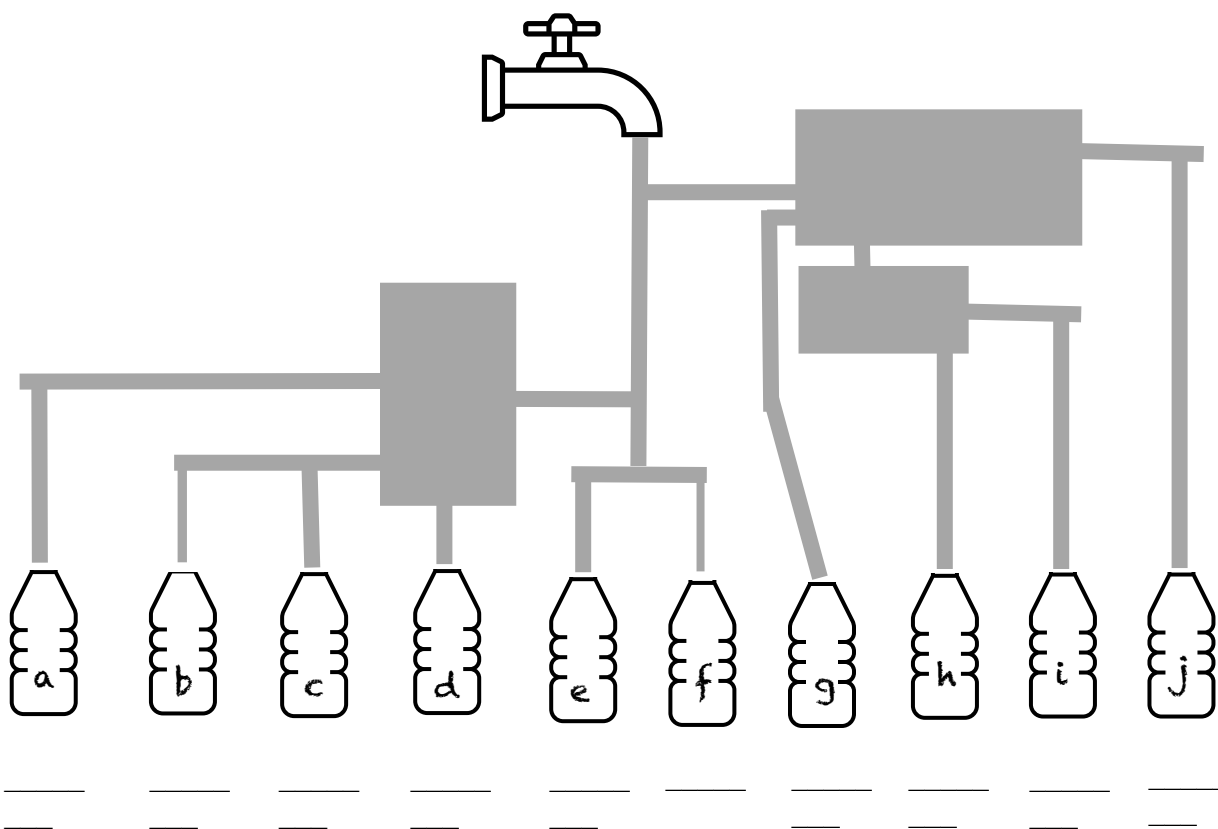
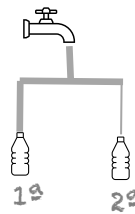
Ejemplo 1



Ejemplo 2



Ejemplo 3



Fecha: \_\_\_\_\_ Hora: \_\_\_\_\_

## PRAXIA VISOCONSTRUCTIVA

Copia las siguientes palabras chinas

En castellano	En chino	Copia en chino	En castellano	En chino	Copia en chino
Padre	爸爸		País	国家	
Amor	爱		Río	河	
Familia	家庭		Médico	医生	
Luna	月亮		Rey	王	
Memoria	记忆		Mañana	早晨	
Arruga	皱纹		Feliz	快乐的	
Bebé	婴儿		Flor	花	
Jefe	老板		Café	咖啡	
Sábado	周六		Hogar	家	
Lluvia	雨		Montaña	山	
Cerebro	脑		Nuevo	新的	
León	狮子		Tarta	蛋糕	
Día	日		Verdad	真相	

Fecha: \_\_\_\_\_ Hora: \_\_\_\_\_

## ATENCIÓN






En la siguiente cuadrícula están los números del 0 al 131, todos menos uno ¿Cuál es el que falta? \_\_\_\_\_

23	53	41	106	111	82	47	119	101	75
80	104	74	93	99	1	91	34	131	100
98	130	113	13	66	67	112	52	46	22
49	84	94	86	61	83	4	117	108	59
115	95	24	73	31	14	48	15	120	33
9	87	60	10	42	57	51	88	11	68
77	121	37	45	38	25	92	62	118	21
114	79	18	54	107	39	12	2	109	58
103	124	96	3	30	72	63	102	76	32
116	27	125	71	129	26	8	36	69	81
122	110	123	28	65	19	50	90	20	89
97	44	126	29	7	128	5	43	55	16
78	127	40	6	56	70	85	35	17	64

Fecha: \_\_\_\_\_ Hora: \_\_\_\_\_

## RAZONAMIENTO Y CÁLCULO

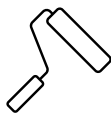
Resuelve los siguientes problemas, marca el resultado sobre el reloj

<p>Me levanto a las 7.20h de la mañana, tardo 25 min en desayunar, 50 en ducharme y vestirme y 35 en llegar al trabajo. ¿A qué hora he llegado?</p>	
<p>He quedado con mi amiga para merendar. He salido del trabajo a las 16.30h, normalmente tardo 15 min en llegar a la cafetería, pero hoy había mucho tráfico y me he retrasado 12 min. He pasado a recoger una chaqueta del tinte y he tardado 8 min más. ¿A qué hora me he encontrado con mi amiga?</p>	
<p>Mi hija llega del cole a casa a las 17.30h, luego hace los deberes (60 min), se ducha (30 min), juega (40 min), cenamos (30 min), lee (20 min) y se va a dormir, ¿A qué hora se acuesta?</p>	
<p>Tengo que llegar a una cita médica a las 12.15h. Tardo en llegar al hospital desde casa unos 45 min en metro, tardo en ducharme y prepararme para salir 60min y quiero llegar 10 min antes de la hora de la cita. ¿A qué hora debo comenzar a prepararme?</p>	
<p>Esta mañana he tenido varios contratiempos (un atasco de 12 min de retención), he tenido que bajar a comprar leche porque se había terminado (he tardado 8 min) y he tenido que planchar la ropa que iba a ponerme (esto me ha llevado 10 min). Tenía que llegar a las 9 a la oficina, ¿A qué hora he llegado?</p>	

Fecha: \_\_\_\_\_ Hora: \_\_\_\_\_

## PLANIFICACIÓN

Imagina que tienes que planificar pintar tu casa, escribe 15 pasos ordenados sobre acciones o decisiones que se deber ir tomando para poder llevarla a cabo, no pueden ser más o menos pasos, deben ser exactamente 15



1

2

3

4

5

6

7

8

9

10

11

12

13

14

15


Fecha: \_\_\_\_\_ Hora: \_\_\_\_\_

## FLUENCIA VERBAL SEMÁNTICA

Escribe 25 palabras que pertenezcan a las siguientes categorías:

	Países	Prendas	Colores	Idiomas
1				
2				
3				
4				
5				
6				
7				
8				
9				
10				
11				
12				
13				
14				
15				
16				
17				
18				
19				
20				
21				
22				
23				
24				
25				

Fecha: \_\_\_\_\_ Hora: \_\_\_\_\_



No importa si no  
sale perfecto, tu  
mejora estará en el  
intento

[WWW.NEUROPSICOLOGIAGDB.COM](http://WWW.NEUROPSICOLOGIAGDB.COM)

